

# SAMEN OP DAGUITSTAP!

Correctiesleutel

**Meester Warre**  
[www.meesterwarre.be](http://www.meesterwarre.be)




@meesterwarre







Meester Warre

## Op daguitstap in Brussel

Sara gaat op daguitstap in Brussel. Ze wil graag het Atomium bezoeken. Ze woont zelf in Brugge, dus zal het openbaar vervoer nodig hebben om op haar eindbestemming te raken. Lees de tijdstabellen en los telkens de bijhorende vragen op.



Sara wil zeker nog voor de middag in Brussel arriveren. Ze neemt de trein vanuit Brugge naar het station van Brussel-Zuid. Bekijk hieronder de verschillende treinen waaruit Sara kan kiezen en beantwoord de vragen.

09:25			10:24
spoor 9			59min, 1 overstap
09:31			10:29
spoor 6			58min
09:58			10:52
spoor 9			54min
10:08			11:07
spoor 5			59min

**Vraag 1** – Welke trein is het snelst op zijn eindbestemming (Brussel-Zuid)?


**De trein die vertrekt om 9.58u is het snelst op zijn bestemming.**

**Vraag 2** – Bij welke treinrit zal Sara moeten overstappen op een andere trein?

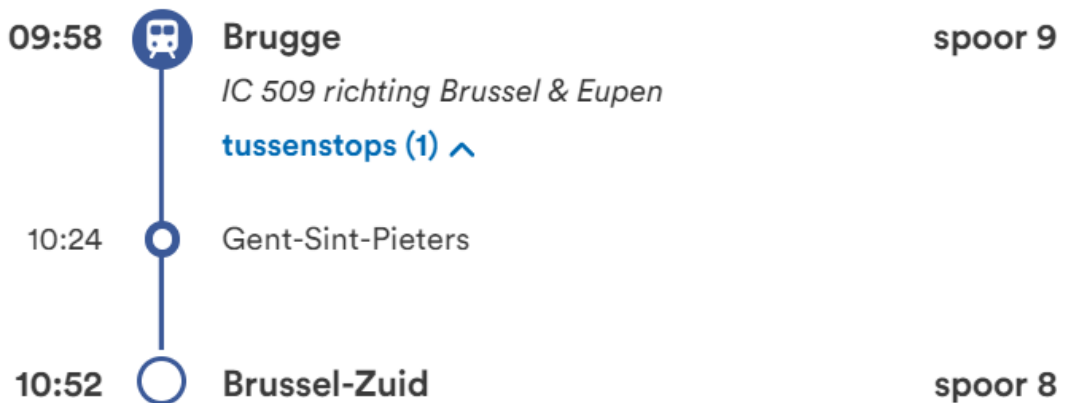
**Bij de trein van 9.25u zal Sara moeten overstappen.**

**Vraag 3** – Welke treinen doen het langst over de rit?

**De trein van 9.25u en van 10.08u doen er het langst over.**



Sara beslist om de trein te nemen die het snelst op de eindbestemming aankomt. Dit is de trein van 09:58u. Bekijk de gedetailleerde treinreis en beantwoord de vragen.



**Vraag 1** – Aan welk spoor vertrekt de trein in het station van Brugge?

**De trein vertrekt op spoor 9.**

**Vraag 2** – Aan welk spoor komt de trein toe in Brussel-Zuid?

**De trein komt toe aan spoor 8.**

**Vraag 3** – Zijn er tussenstops bij deze treinrit? Indien ja: waar stopt de trein?

**Ja, er is één tussenstop in Gent-Sint-Pieters.**





**Vraag 4** – Hoe lang doet de trein over de afstand Brugge – Gent?

**De trein doet er 26 minuten over.**



Eénmaal aangekomen in Brussel is het tijd om de metro te nemen richting het Atomium. Bekijk hieronder de verschillende metro's die Sara kan nemen.

**Belangrijk:** van het perron naar de metro moet Sara 5 minuten wandelen

10:56 ▶ 11:29	33 min
 6	0 15 min
11:03 ▶ 11:36	33 min
 6	0 15 min
11:11 ▶ 11:44	33 min
 6	0 15 min
11:18 ▶ 11:51	33 min
 6	0 15 min

**Vraag 1** – Wat is de eerstvolgende metro die Sara zal kunnen nemen?

**De eerstvolgende metro is die van 11.03u.  
De metro van 10.56u zal Sara niet meer halen!**

**Vraag 2** – Wat is het lijnnummer van die metro?

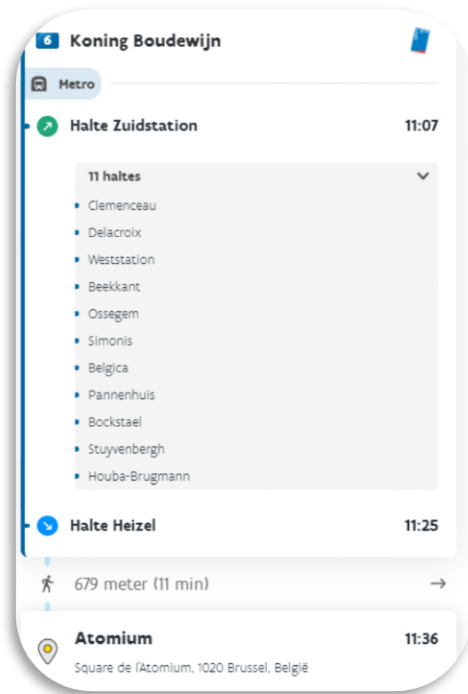
**Het lijnnummer is 6.**

**Vraag 3** – hoe lang doen de metro's over de rit?

**De metro's doen 33 minuten over de rit.**



Sara neemt de metro van 11:03 uur. Bekijk hieronder de gedetailleerde metrorit (met kaart) en beantwoord de vragen.



**Vraag 1** – Hoeveel tussenhaltes zijn er tijdens de metrorit richting het Atomium?

**Er zijn 11 tussenhaltes.**

**Vraag 2** – Som 3 tussenhaltes op.


**Belgica, Stuyvenbergh, Bockstael**

**Vraag 3** – Aan welke halte moet Sara afstappen?


**Sara moet afstappen aan de halte 'Heizel'.**

**Vraag 4** – Wanneer Sara aankomt aan de eindhalte, moet ze nog een eindje wandelen. Hoeveel meter moet ze nog wandelen?

**Ze zal nog 679 meter moeten wandelen tot aan haar eindbestemming.**



Sara komt toe aan het Atomium en geniet van een bezoek aan dit nationaal symbool. Ze maakt ook nog een wandeling in de buurt van het Atomium.



Om 17u staat Sara opnieuw aan het station van Brussel-Zuid om terug te keren naar huis. Jullie weten dat ze in Brugge woont. Ga zelf naar de routeplanner van de NMBS en beantwoord onderstaande vragen.

De routeplanner is bereikbaar via <https://www.belgiantrain.be/nl>

*De antwoorden op deze vragen zijn afhankelijk van het moment dat de leerlingen de website van de NMBS raadplegen.*

**Vraag 1** – Wat is de eerstvolgende trein die Sara kan nemen richting Brugge?

.....

**Vraag 2** – Is er sprake van vertraging bij deze trein? Indien ja: hoeveel vertraging?

.....

**Vraag 3** – Hoeveel tussenstops zijn er bij deze treinrit? Waar stopt de trein?

.....

**Vraag 4** – Op welk perron vertrekt de trein in Brussel?

.....

**Vraag 5** – Op welk perron komt de trein toe in Brugge?




.....

## Op daguitstap in Antwerpen




Jonas komt toe in het station van Antwerpen Centraal en wil graag het MAS (Museum Aan de Stroom) bezoeken. Hiervoor neemt hij de bus. Bekijk hieronder de tijdstabellen en los telkens de bijhorende vragen op.






Bekijk hieronder welke bussen Jonas kan nemen richting het MAS. Beantwoord de bijhorende vragen.

13:17 ▶ 13:38	21 min
 17	 0  11 min
⚠ 1 halte op je route is niet bediend	

13:27 ▶ 13:48	21 min
 17	 0  11 min
⚠ 1 halte op je route is niet bediend	

13:37 ▶ 13:58	21 min
 17	 0  11 min
⚠ 1 halte op je route is niet bediend	

**Vraag 1** – Bij elke busrit staat de zin ‘1 halte op je route is niet bediend’. Wat zou dit betekenen?

**Dit wil zeggen dat er op de route één bushalte is die niet bereikbaar is waardoor de bus er niet zal stoppen. Dit kan komen door wegenwerken.**

**Vraag 2** – Welk lijnnummer heeft de bus die Jonas kan nemen?



Jonas beslist om de eerstvolgende bus richting het MAS te nemen. Bekijk het gedetailleerde verloop van de busrit en beantwoord de vragen.

The screenshot shows a public transport app interface. At the top, it displays 'Station Antwerpen-Centraal' with the address 'Koningin Astridplein 27, 2018 Antwerpen, België'. Below this, it indicates a walking distance of '158 meter (3 min)'. The main section is for bus line '17 UZA - Centraal Station - Brouwersvliet'. It shows the starting stop 'Halte Antwerpen Centraal Station perron 10' at 13:20. A dropdown menu shows '4 haltes': Antwerpen Roosevelt perron Osy, Antwerpen Sint-Jansplein, Antwerpen Rodestraat, and Antwerpen Hessenbrug. The destination stop is 'Halte Antwerpen Felixarchief' at 13:30. A warning message states 'Opstap halte niet bediend door omleiding'. At the bottom, it shows a walking distance of '479 meter (8 min)' to 'Mas (Museum aan de Stroom)' at 13:38, with the address 'Hanzestedenplaats 1, 2000 Antwerpen, België'.

**Vraag 1 –** Hoe lang moet Jonas wandelen van het station naar de bushalte?

**Jonas moet 3 minuten (158 meter) wandelen.**

**Vraag 2 –** Welke naam heeft de bus met lijnnummer 17?

**UZA – Centraal Station – Brouwersvliet**

**Vraag 3 –** Hoeveel tussenhalthes zijn er tijdens de rit naar het Mas?

**Er zijn 4 tussenhalthes.**

**Vraag 4 –** Aan welke halte moet Jonas afstappen?

**Jonas moet afstappen aan de halte ‘Antwerpen Felixarchief’**