

SAMEN OP DAGUITSTAP!

Tijdstabellen correct interpreteren en aflezen

Meester Warre
www.meesterwarre.be




@meesterwarre








Meester Warre

Op daguitstap in Brussel

Sara gaat op daguitstap in Brussel. Ze wil graag het Atomium bezoeken. Ze woont zelf in Brugge, dus zal het openbaar vervoer nodig hebben om op haar eindbestemming te raken. Lees de tijdstabellen en los telkens de bijhorende vragen op.



Sara wil zeker nog voor de middag in Brussel arriveren. Ze neemt de trein vanuit Brugge naar het station van Brussel-Zuid. Bekijk hieronder de verschillende treinen waaruit Sara kan kiezen en beantwoord de vragen.

09:25			10:24
spoor 9		59min, 1 overstap	
09:31			10:29
spoor 6		58min	
09:58			10:52
spoor 9		54min	
10:08			11:07
spoor 5		59min	

Vraag 1 – Welke trein is het snelst op zijn eindbestemming (Brussel-Zuid)?


.....

Vraag 2 – Bij welke treinrit zal Sara moeten overstappen op een andere trein?

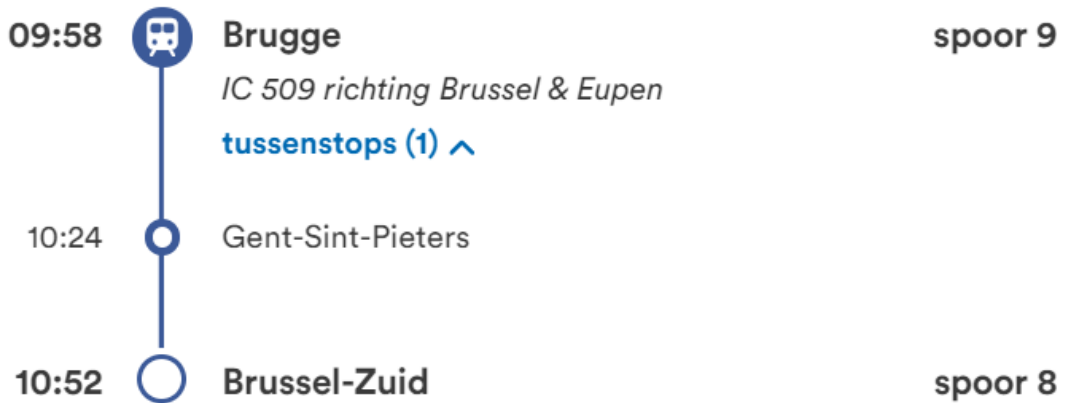
.....

Vraag 3 – Welke treinen doen het langst over de rit?

.....



Sara beslist om de trein te nemen die het snelst op de eindbestemming aankomt. Dit is de trein van 09:58u. Bekijk de gedetailleerde treinreis en beantwoord de vragen.



Vraag 1 – Aan welk spoor vertrekt de trein in het station van Brugge?

.....

Vraag 2 – Aan welk spoor komt de trein toe in Brussel-Zuid?

.....

Vraag 3 – Zijn er tussenstops bij deze treinrit? Indien ja: waar stopt de trein?

.....









Vraag 4 – Hoe lang doet de trein over de afstand Brugge – Gent?

.....



Eénmaal aangekomen in Brussel is het tijd om de metro te nemen richting het Atomium. Bekijk hieronder de verschillende metro's die Sara kan nemen.

Belangrijk: van het perron naar de metro moet Sara 5 minuten wandelen

10:56 ▶ 11:29	33 min
 6	0  15 min
11:03 ▶ 11:36	33 min
 6	0  15 min
11:11 ▶ 11:44	33 min
 6	0  15 min
11:18 ▶ 11:51	33 min
 6	0  15 min

Vraag 1 – Wat is de eerstvolgende metro die Sara zal kunnen nemen?

.....

Vraag 2 – Wat is het lijnnummer van die metro?

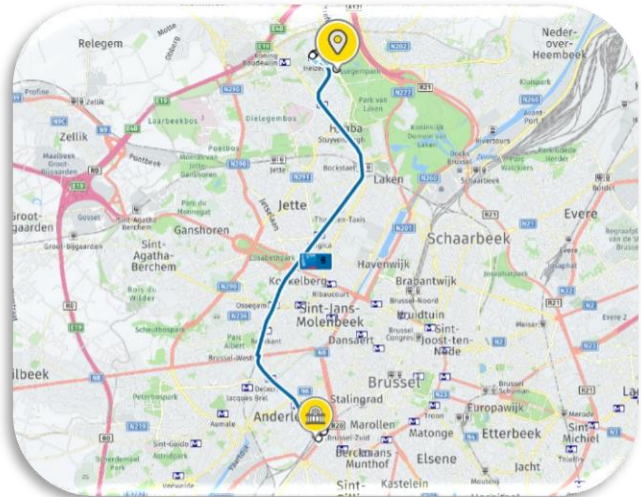
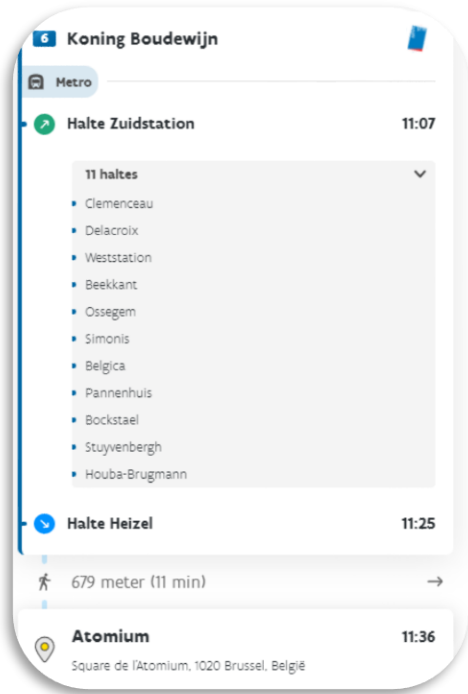
.....

Vraag 3 – hoe lang doen de metro's over de rit?

.....



Sara neemt de metro van 11:03 uur. Bekijk hieronder de gedetailleerde metrorit (met kaart) en beantwoord de vragen.



Vraag 1 – Hoeveel tussenhaltes zijn er tijdens de metrorit richting het Atomium?

.....

Vraag 2 – Som 3 tussenhaltes op.


.....,

Vraag 3 – Aan welke halte moet Sara afstappen?


.....

Vraag 4 – Wanneer Sara aankomt aan de eindhalte, moet ze nog een eindje wandelen. Hoeveel meter moet ze nog wandelen?

.....



Sara komt toe aan het Atomium en geniet van een bezoek aan dit nationaal symbool. Ze maakt ook nog een wandeling in de buurt van het Atomium.



Om 17u staat Sara opnieuw aan het station van Brussel-Zuid om terug te keren naar huis. Jullie weten dat ze in Brugge woont. Ga zelf naar de routeplanner van de NMBS en beantwoord onderstaande vragen.

De routeplanner is bereikbaar via <https://www.belgiantrain.be/nl>

Vraag 1 – Wat is de eerstvolgende trein die Sara kan nemen richting Brugge?

.....

Vraag 2 – Is er sprake van vertraging bij deze trein? Indien ja: hoeveel vertraging?

.....

Vraag 3 – Hoeveel tussenstops zijn er bij deze treinrit? Waar stopt de trein?

.....

Vraag 4 – Op welk perron vertrekt de trein in Brussel?

.....

Vraag 5 – Op welk perron komt de trein toe in Brugge?




.....




Op daguitstap in Antwerpen




Jonas komt toe in het station van Antwerpen Centraal en wil graag het MAS (Museum Aan de Stroom) bezoeken. Hiervoor neemt hij de bus. Bekijk hieronder de tijdstabellen en los telkens de bijhorende vragen op.



Bekijk hieronder welke bussen Jonas kan nemen richting het MAS. Beantwoord de bijhorende vragen.

13:17 ▶ 13:38	21 min
 17	 0  11 min
⚠ 1 halte op je route is niet bediend	

13:27 ▶ 13:48	21 min
 17	 0  11 min
⚠ 1 halte op je route is niet bediend	

13:37 ▶ 13:58	21 min
 17	 0  11 min
⚠ 1 halte op je route is niet bediend	

Vraag 1 – Bij elke busrit staat de zin ‘1 halte op je route is niet bediend’. Wat zou dit betekenen?

.....

.....

Vraag 2 – Welk lijnnummer heeft de bus die Jonas kan nemen?

.....



Jonas beslist om de eerstvolgende bus richting het MAS te nemen. Bekijk het gedetailleerde verloop van de busrit en beantwoord de vragen.

Station Antwerpen-Centraal
Koningin Astridplein 27, 2018 Antwerpen, België

158 meter (3 min) →

17 UZA - Centraal Station - Brouwersvliet

Bus

Halte Antwerpen Centraal Station perron 10 13:20
101725

4 haltes

- Antwerpen Roosevelt perron Osy
- Antwerpen Sint-Jansplein
- Antwerpen Rodestraat
- Antwerpen Hessenbrug

Halte Antwerpen Felixarchief 13:30
102054

⚠️ Opstap halte niet bediend door omleiding

479 meter (8 min) →

Mas (Museum aan de Stroom) 13:38
Hanzestedenplaats 1, 2000 Antwerpen, België

Vraag 1 – Hoe lang moet Jonas wandelen van het station naar de bushalte?

.....

Vraag 2 – Welke naam heeft de bus met lijnnummer 17?

.....

Vraag 3 – Hoeveel tussenhalthes zijn er tijdens de rit naar het Mas?

.....

Vraag 4 – Aan welke halte moet Jonas afstappen?

.....