



REKENTAAL

Correctiesleutel

Meester Warre
www.meesterwarre.be



@meesterwarre



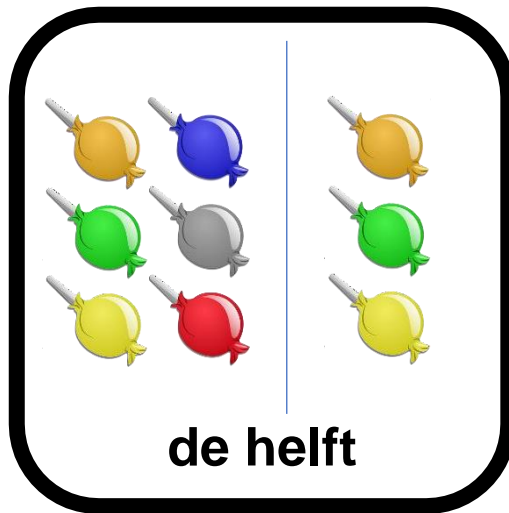
Meester Warre



De som van 24 en 32	56
De som van 53 en 17	70
De som van 41 en 58	99
De som van 53 en 47	100
20 plus 70 is gelijk aan	90
20 plus 19 is gelijk aan	39
30 plus 40 is gelijk aan	70
82 plus 17 is gelijk aan	99
De som van 93 en 7	100
De som van 0 en 54	54
De som van 54 en 6	60

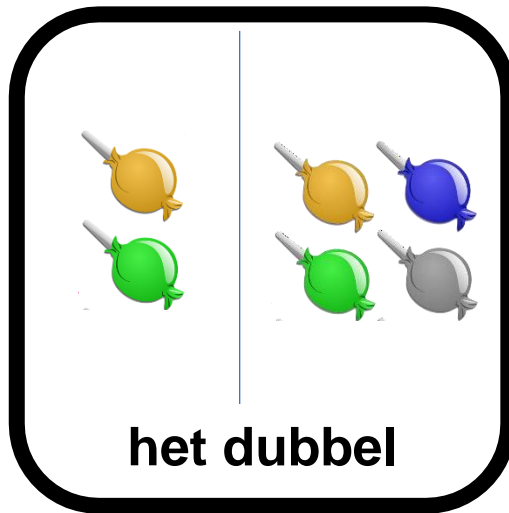


Het verschil tussen 50 en 45	5
Het verschil tussen 70 en 63	7
Het verschil tussen 80 en 30	50
Het verschil tussen 80 en 79	1
Het verschil tussen 90 en 70	20
Het verschil tussen 60 en 17	43
Het verschil tussen 40 en 40	0
70 min 8 is gelijk aan	62
80 min 5 is gelijk aan	75
29 min 7 is gelijk aan	22
90 min 2 is gelijk aan	88













Teken telkens de helft van het aantal stukken fruit

	<p>De helft van 4</p>
	<p>De helft van 12</p>
	<p>De helft van 10</p>
	<p>De helft van 16</p>
	<p>De helft van 6</p>



Teken telkens het dubbel van het aantal stukken fruit

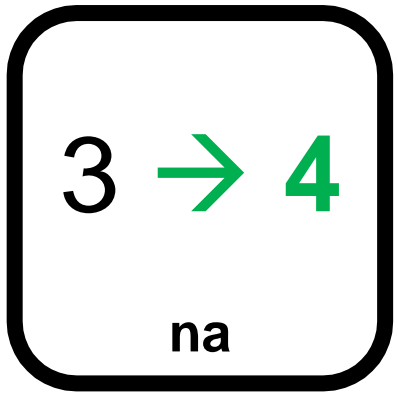
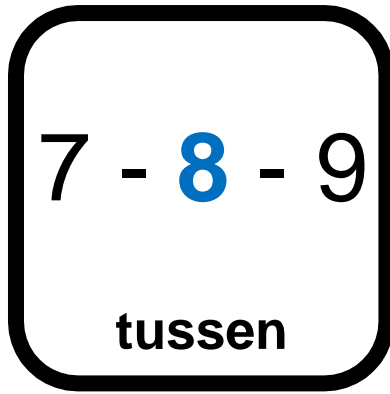
	<p>Het dubbel van 4</p> 
	<p>Het dubbel van 8</p> 
	<p>Het dubbel van 2</p> 
	<p>Het dubbel van 8</p> 
	<p>Het dubbel van 9</p> 



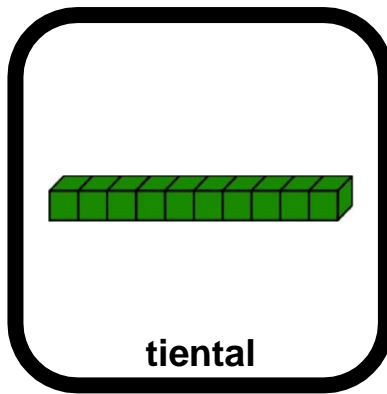

7 maal 2	14
4 maal 5	20
1 keer 1	1
9 keer 1	9
9 maal 2	18
2 keer 2	4
Het product van 9 en 5	45
Het product van 6 en 5	30
Het product van 3 en 3	9
Het product van 0 en 5	0
Het product van 4 en 2	8



10 gedeeld door 2	5
45 gedeeld door 5	9
36 gedeeld door 6	6
20 gedeeld door 2	10
12 gedeeld door 3	4
50 gedeeld door 5	10
Het quotiënt van 90 en 9	10
Het quotiënt van 15 en 5	3
Het quotiënt van 49 en 7	7
Het quotiënt van 54 en 9	6
Het quotiënt van 25 en 5	5




Het getal voor 10	9
Het getal voor 20	19
Het getal voor 13	12
Het getal voor 100	99
Het getal na 99	100
Het getal na 7	8
Het getal na 25	26
Het getal tussen 79 en 81	80
Het getal tussen 14 en 16	15
Het getal tussen 18 en 20	19
Het getal tussen 36 en 38	37



Kleur in de onderstaande getallen de eenheden geel, tientallen groen en honderdtallen blauw. Kijk naar het voorbeeld.


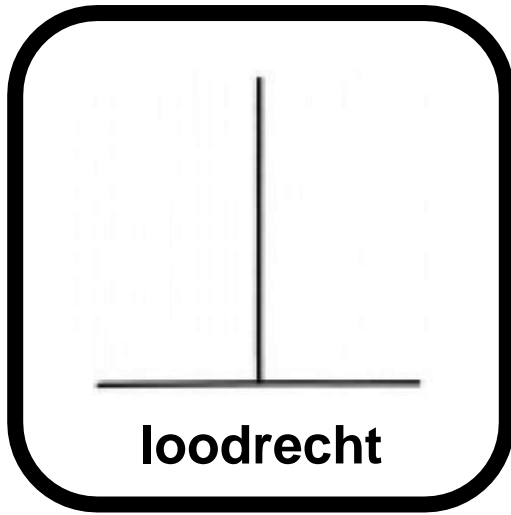
784
924
194
512
119
300
948
445



Lees de opdrachten en voer ze uit.

Meerdere antwoorden mogelijk

<p>Een chocoladereep is verdeeld in 10 gelijke delen. Kleur 4 delen van het geheel.</p>	
<p>Verdeel de pizza in 4 gelijke delen</p>	
<p>Een taart is verdeeld in 2 gelijke delen. Kleur één deel van het geheel.</p>	
<p>Een chocoladereep is verdeeld in 10 gelijke delen. Kleur de helft van het geheel.</p>	





Teken in het kader 2 rechten die loodrecht op elkaar staan.

Meerdere oplossingen mogelijk.



Teken in het kader 2 rechten die evenwijdig zijn.





Wat past bij onderstaande zinnen: meter, liter of kilogram? Omkring het juiste symbool.

Mijn papa weegt 76 ...	  
Om in die attractie te mogen, moet ik groter zijn dan 1 ...	  
In die kan past precies 1 ... water.	  
Mijn kleine zus is kleiner dan 1 ...	  
Mijn kat weegt minder dan 10 ...	  
In een kom soep zit minder dan 1 ...	  