

## KLOKLEZEN INOEFENEN

Tot op het uur, halfuur en kwartier



## **Uitleg bij dit bestand**

In deze bundel vind je verschillende leuke spelletjes terug om het kloklezen in te oefenen met leerlingen uit het tweede en derde leerjaar. Het aflezen van de klok tot op het uur, halfuur en kwartier wordt ingeoeffend.

## **Overzicht van spelletjes**

### 1. Passende duo's – analoog en digitaal

Alle leerlingen krijgen een kaartje met daarop een analoge of digitale klok. Het is de bedoeling dat de kinderen op zoek gaan naar de persoon met hetzelfde tijdstip. Je vindt een versie terug zonder en met 24-uursnotatie.

*Vb. Bert krijgt een analoge klok waarop het 3 uur is. Hij gaat op zoek naar de persoon met een digitale klok waarop het ook 3 uur is.*

### 2. Tijdstippen koppelen aan klokken

De leerlingen krijgen een werkblad met daarop enkele tijdstippen. Ze krijgen ook een knipblad met daarop analoge of digitale klokken. Het is de bedoeling dat de leerlingen de klokjes uitknippen en bij het juiste tijdstip kleven. Er zal een versie terug te vinden zijn met analoge klokken, digitale klokken zonder 24-uursnotatie en digitale klokken met 24-uursnotatie.

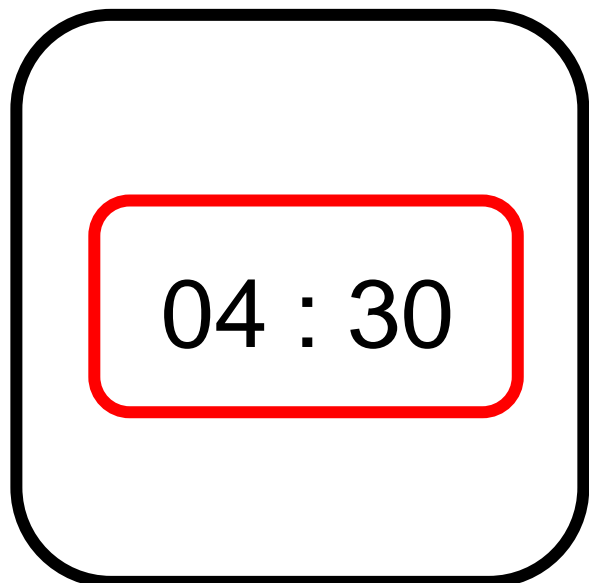

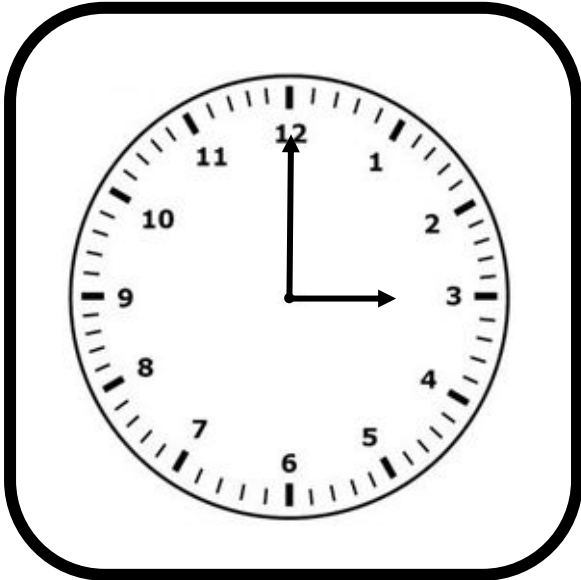
### 3. Wat hoort bij elkaar?

Op de tafel liggen verschillende analoge klokken, digitale klokken (met en zonder 24u-notatie) en zinnen met tijdstippen zoals 'het is vijf uur'. De bedoeling is dat de kinderen telkens de vier kaartjes vinden die bij elkaar horen.

*Vb. De kinderen zoeken een klok waarop het half 6 is. Ze leggen hierbij ook de zin 'het is half zes' en de bijhorende digitale klok.*


Passende duo's – analoog en digitaal

Kaartjes zonder 24-uursnotatie






06 : 45




12 : 15



01 : 00




07 : 30




05 : 15




08 : 45




11 : 30




04 : 00




10 : 15



02 : 45

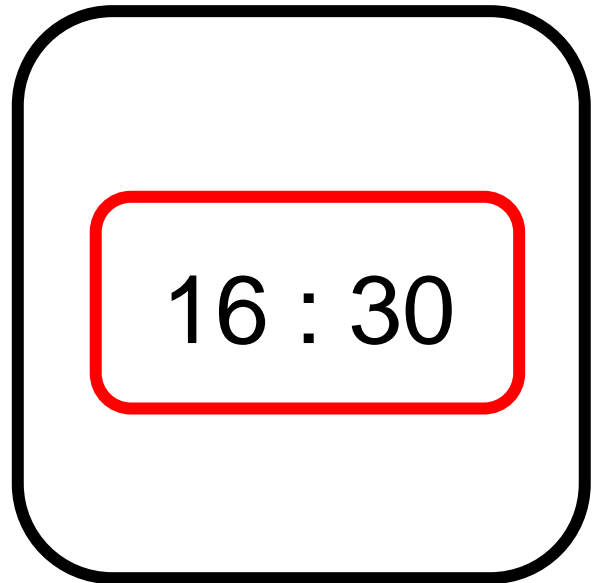

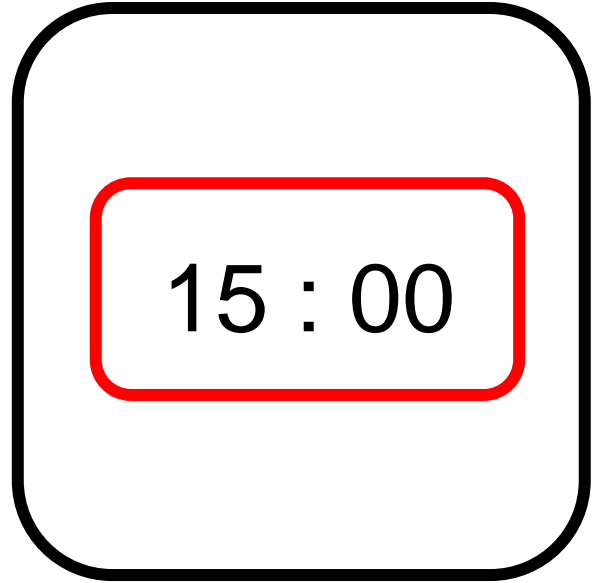
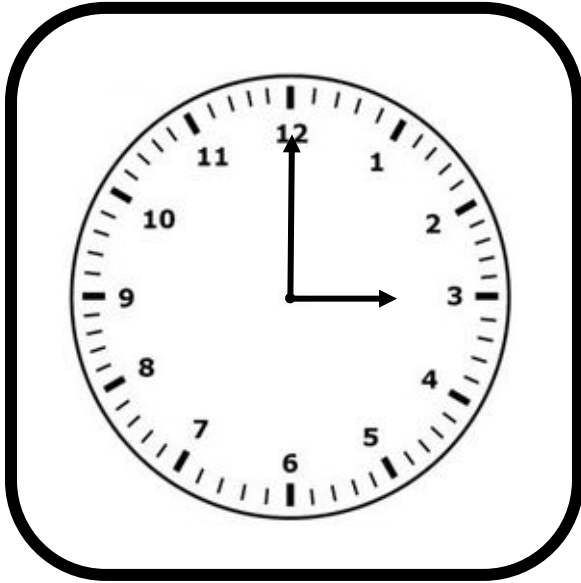


12 : 00




09 : 30


Kaartjes met 24-uursnotatie








18 : 45




00 : 15




13 : 00




19 : 30




17 : 15




20 : 45




23 : 30



16 : 00




22 : 15



14 : 45



00 : 00



21 : 30


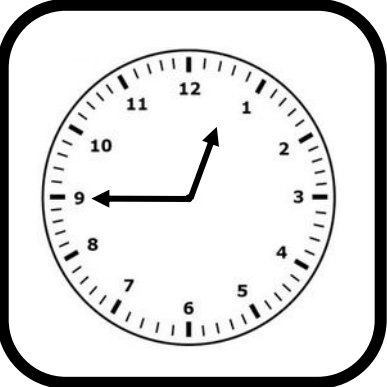


## Tijdstippen koppelen aan klokken – analoge klokken

**Opdracht:** kleef de klokken van het knipblad bij het juiste tijdstip.

<b>Het is kwart over 3</b>	<b>Het is half 9</b>
<b>Het is half 12</b>	<b>Het is kwart voor 6</b>
<b>Het is 5 uur</b>	<b>Het is kwart voor 11</b>

<b>Het is kwart over 8</b>	<b>Het is kwart voor 1</b>
<b>Het is 8 uur</b>	<b>Het is kwart voor 5</b>
<b>Het is kwart over 2</b>	<b>Het is 10 uur</b>

Knipblad



## Tijdstippen koppelen aan klokken – digitale klokken


**Opdracht:** kleef de klokken van het knipblad bij het juiste tijdstip.

<b>Het is kwart over 3</b>	<b>Het is half 9</b>
<b>Het is half 12</b>	<b>Het is kwart voor 6</b>
<b>Het is 5 uur</b>	<b>Het is kwart voor 11</b>



<b>Het is kwart over 8</b>	<b>Het is kwart voor 1</b>
<b>Het is 8 uur</b>	<b>Het is kwart voor 5</b>
<b>Het is kwart over 2</b>	<b>Het is 10 uur</b>

Knipblad



## Tijdstippen koppelen aan klokken – digitale klokken (24u)

**Opdracht:** kleef de klokken van het knipblad bij het juiste tijdstip.

<b>Het is kwart over 3</b>	<b>Het is half 9</b>
<b>Het is half 12</b>	<b>Het is kwart voor 6</b>
<b>Het is 5 uur</b>	<b>Het is kwart voor 11</b>

<b>Het is kwart over 8</b>	<b>Het is kwart voor 1</b>
<b>Het is 8 uur</b>	<b>Het is kwart voor 5</b>
<b>Het is kwart over 2</b>	<b>Het is 10 uur</b>

Knipblad

16 : 45

15 : 15

22 : 45

14 : 15

23 : 30

00 : 45

20 : 30

20 : 00

22 : 00

17 : 45


20 : 15

17 : 00

Wat hoort bij elkaar?

het is half drie.


02 : 30



14 : 30

het is negen uur.


09 : 00



21 : 00

het is kwart voor elf.

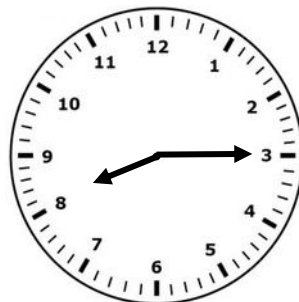
10 : 45



10 : 45

het is kwart over acht.


08 : 15



20 : 15

het is twaalf uur.

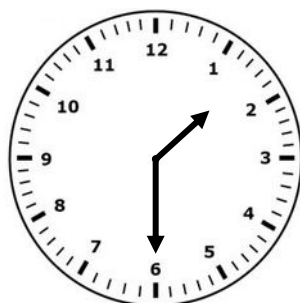
12 : 00



00 : 00

het is half twee.

01 : 30




13 : 30



het is kwart over tien.


10 : 15



22 : 15

het is kwart voor zeven.


06 : 45



18 : 45

het is drie uur.


03 : 00



15 : 00

het is half drie.

02 : 30



14 : 30